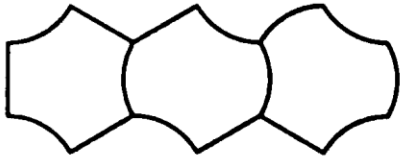
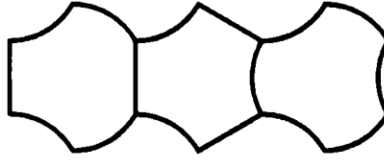
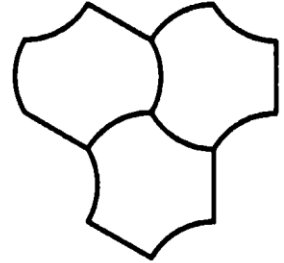


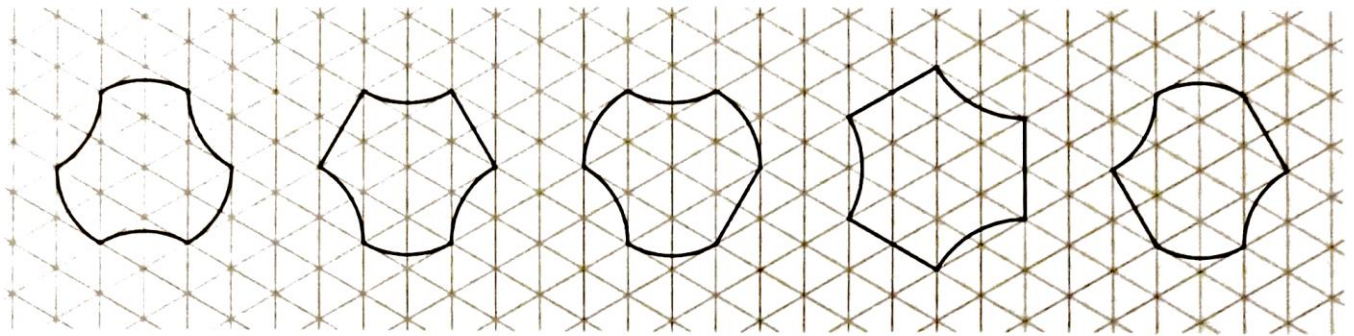
Reconnais les pièces utilisées et reproduis les motifs sur ta table (les uns après les autres ; ils sont indépendants).
 Sur chaque dessin, écris les lettres dans les pièces et le mot obtenu.







Trace le ou les axes de chaque pièce qui en possède.



Complète le dessin par la symétrie dont l'axe est donné, et termine le tracé de la pièce Curvhexa (solution unique).

⚠ Deux côtés consécutifs doivent être de formes différentes.

